

**DOKUMEN NEGARA  
SANGAT RAHASIA**

**PAKET 25**

**SOS(IPS)-SMA/MA**

# **UJIAN NASIONAL**

## **TAHUN PELAJARAN 2010/2011**

**UTAMA**

**SMA/MA**  
PROGRAM STUDI  
**IPS**

**SOSIOLOGI**  
**(D17)**



**PUSPENDIK  
BALITBANG**



**KEMENTERIAN PENDIDIKAN NASIONAL**

**MATA PELAJARAN**

Mata Pelajaran : Sosiologi  
Jenjang : SMA/MA  
Program Studi : IPS

**WAKTU PELAKSANAAN**

Hari/Tanggal : Senin, 18 April 2011  
Jam : 11.00 - 13.00

**PETUNJUK UMUM**

1. Isikan identitas Anda ke dalam Lembar Jawaban Ujian Nasional (LJUN) yang tersedia dengan menggunakan pensil 2B sesuai petunjuk di LJUN.
2. Hitamkan bulatan di depan nama mata ujian pada LJUN.
3. Periksa dan bacalah soal-soal sebelum Anda menjawabnya, pastikan setiap lembar soal memiliki nomor paket yang sama dengan nomor paket yang tertera pada cover.
4. Laporkan kepada pengawas ujian apabila terdapat lembar soal yang kurang jelas, rusak, atau tidak lengkap.
5. Tersedia waktu 120 menit untuk mengerjakan paket tes tersebut.
6. Jumlah soal sebanyak 50 butir, pada setiap butir soal terdapat 5 (lima) pilihan jawaban.
7. Mintalah kertas buram kepada pengawas ujian, bila diperlukan.
8. Tidak diizinkan menggunakan kalkulator, HP, tabel matematika atau alat bantu hitung lainnya.
9. Periksalah pekerjaan Anda sebelum diserahkan kepada pengawas ujian.
10. Lembar soal tidak boleh dicoret-coret.

1. Seorang anak dari keluarga biasa berhasil menjuarai kompetisi di bidang iptek. Kemudian ia mendapat beasiswa untuk studi ke luar negeri. Setelah lulus, ia bekerja sebagai direktur di perusahaan multinasional ternama. Dari contoh tersebut, yang menjadi saluran utama dalam mobilitas sosial adalah ....
- A. lembaga pendidikan dan ekonomi
  - B. organisasi ekonomi dan pertahanan
  - C. lembaga pertahanan dan keagamaan
  - D. lembaga keagamaan dan kekuasaan
  - E. organisasi politik dan ekonomi

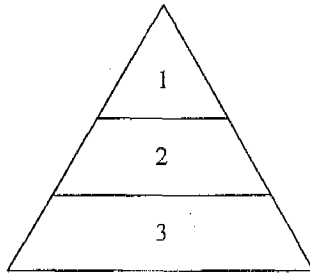
2. Perhatikan pernyataan di bawah ini!

- (1) Polisi membubarkan para demonstran yang anarkis dengan tembakan gas air mata
- (2) Guru memberitahukan kepada siswa agar besok membawa buku Sosiologi –
- (3) Orang tua memukul anaknya yang tidak masuk sekolah karena malas belajar
- (4) Pemuka agama mengingatkan agar masyarakat tidak melakukan tindakan anarkis –

Yang merupakan pengendalian sosial bersifat preventif adalah ....

- A. (1) dan (2)
  - B. (1) dan (3)
  - C. (2) dan (3)
  - D. (2) dan (4)
  - E. (3) dan (4)
3. Andi ditangkap polisi karena melakukan tindakan kekerasan yang mengakibatkan seorang anak tewas. Ia dijatuhi hukuman selama 13 tahun penjara oleh Pengadilan Negeri setempat. Peran pengadilan dalam pengendalian sosial tersebut sesuai dengan kedudukannya sebagai ....
- A. lembaga penegak hukum
  - B. tempat menanyakan masalah hukum
  - C. badan hukum yang menjaga ketertiban
  - D. tempat mengadukan masalah hukum
  - E. lembaga yang mengatur kesejahteraan

## 4. Gambar struktur sosial



Keterangan:

1. Raja dan keluarganya
2. Priyayi atau pegawai kerajaan
3. Petani dan rakyat biasa

Yang dijadikan dasar pelapisan sosial di atas adalah ....

- A. pendidikan dan keturunan
  - B. keturunan dan kekuasaan
  - C. kekuasaan dan kekayaan
  - D. kekayaan dan pengetahuan
  - E. pengetahuan dan kehormatan
5. Dua orang kakak beradik dalam pergaulan sehari-hari mereka terikat oleh tata sopan santun yang berlaku. Tetapi ketika mengikuti perlombaan lari cepat, mereka harus mengikuti aturan yang berlaku dalam perlombaan, dan menanggalkan segala etika yang berlaku dalam ikatan persaudaraan. Contoh kasus tersebut merupakan interaksi sosial dalam bentuk ....
- A. kompetisi
  - B. kontradiksi
  - C. konfrontasi
  - D. kontravensi
  - E. kompensasi
6. Risky setiap hari Minggu berjalan-jalan dengan naik sepeda ke tempat-tempat umum seperti lapangan olahraga, arena permainan anak dan tempat lainnya dalam suasana santai. Kegiatan yang dilakukan Risky pada ilustrasi tersebut termasuk bentuk sosialisasi ....
- A. formal
  - B. primer
  - C. peer group
  - D. partisipatif
  - E. nonformal
7. Ketua RT merasa senang karena aturan tentang kewajiban kerja bakti setiap hari Minggu ditaati oleh semuaarganya. Semua saluran air lancar karena warga tertib dalam membuang sampah pada tempatnya. Hubungan antara keteraturan sosial dengan norma sosial pada contoh tersebut adalah ....
- A. keteraturan sosial akan menciptakan norma sosial
  - B. norma lahir dari nilai sosial yang berkembang di masyarakat
  - C. keteraturan sosial merupakan wujud dari ketertiban norma sosial
  - D. norma sosial merupakan aturan untuk menciptakan keteraturan -
  - E. tindakan dan interaksi sosial akan membentuk keteraturan sosial

8. Beberapa kegiatan lembaga keluarga:
- (1) Menyediakan daftar menu untuk anggota keluarga
  - (2) Menolong anak ketika mendapat kemalangan/kesusahan
  - (3) Mengajarkan kepada anak untuk bersikap sopan kepada siapapun
  - (4) Mengingatkan anak untuk belajar mandiri tidak bergantung kepada orang lain
- Yang termasuk fungsi sosialisasi adalah ....
- A. (1) dan (2)
  - B. (1) dan (3)
  - C. (2) dan (3)
  - D. (2) dan (4)
  - E. (3) dan (4)
9. Sosialisasi tidak sempurna akan mengakibatkan seseorang tidak mampu menyerap nilai, norma dan peran-peran sosial yang baik dari masyarakatnya. Seseorang akan mengalami kebingungan karena setiap agen sosialisasi memberikan informasi berbeda. Contoh penyimpangan akibat sosialisasi tidak sempurna adalah ....
- A. setelah ayahnya meninggal dunia, Andi sebagai anak sulung menjadi tulang punggung kehidupan keluarga
  - B. anak yang tinggal di daerah kumuh tidak terbiasa membuang sampah pada tempatnya
  - C. sebagian besar masyarakat desa menganggap bahwa perpaduan warna pakaian tidak penting
  - D. di sekolah seorang anak diajarkan untuk disiplin belajar tetapi di rumah tidak, sehingga ia tumbuh menjadi pemalas
  - E. beberapa pemuda sering bernyanyi meski pada tengah malam. Mereka tidak merasa mengganggu karena bernyanyi merupakan hobinya
10. Seorang anak desa dari lingkungan petani kecil berhasil menempuh pendidikan hingga SMA. Dengan kemajuan teknologi informasi, ia bisa mengakses internet. Teman sebayanya banyak yang mengikuti jejaknya, sehingga lambat laun mengubah paradigma masyarakat. Dari contoh tersebut yang merupakan agen/media sosialisasi adalah ....
- A. keluarga dan sekolah
  - B. sekolah dan teman bermain
  - C. teman bermain dan media massa
  - D. media massa dan lembaga sekolah
  - E. lingkungan budaya sekolah dan keluarga
11. Ketika lahir, individu tidak mengenal tata sopan santun. Melalui proses sosialisasi, individu belajar untuk menjadi pribadi yang baik dalam berperilaku. Menjadi pribadi seperti yang dimaksud pada uraian tersebut merupakan ....
- A. tujuan sosialisasi
  - B. bentuk sosialisasi
  - C. tahap sosialisasi
  - D. tipe sosialisasi
  - E. agen sosialisasi

12. Beberapa ciri-ciri penyimpangan:

- (1) Penyimpangan bersifat sementara tidak berulang
- (2) Masyarakat dapat menoleransi penyimpangan
- (3) Penyimpangan dilakukan berulang-ulang ✖
- (4) Penyimpangan sudah menjadi kebiasaan ✖

Yang termasuk ciri-ciri penyimpangan *primer* adalah ....

- A. (1) dan (2)
- B. (1) dan (3)
- C. (1) dan (4)
- D. (2) dan (3)
- E. (3) dan (4)

13. Beberapa gejala sosial:

- (1) Mengatur perilaku manusia dalam berinteraksi
- (2) Memberikan harapan yang baik, sikap mandiri, dan bertanggungjawab
- (3) Mengarahkan cara berperasaan, berpikir, berkehendak, dan bertindak
- (4) Memberi sanksi terhadap perilaku menyimpang dalam masyarakat

Fungsi nilai sosial bagi kehidupan manusia ditunjukkan oleh ....

- A. (1) dan (2)
- B. (1) dan (3)
- C. (2) dan (3)
- D. (2) dan (4)
- E. (3) dan (4)

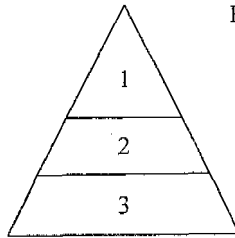
14. Individu yang sabar senantiasa menunjukkan perilaku dan tutur kata yang baik, tidak mudah marah meskipun berhadapan dengan teman dan tetangga yang seringkali bertindak kasar. Dia berperilaku demikian karena mengedepankan nilai ....

- A. instrumental
- B. material
- C. estetika
- D. logika
- E. etika

15. Seorang peserta Indonesia Idol datang dari daerah ke Jakarta dan berhasil lolos pada babak eliminasi. Ketika ada kesempatan berkunjung ke daerah asal, ia disambut hangat dengan salam dan pelukan. Semenjak itu banyak remaja di daerah tersebut mengikuti gaya berpakaianya, model rambutnya, bahkan cara bicaranya. Contoh kasus tersebut dipengaruhi oleh faktor ....

- A. simpati
- B. sugesti
- C. imitasi
- D. motivasi
- E. empati

## 16. Gambar stratifikasi sosial



Keterangan:

- 1. = Gol. Pengusaha
- 2. = Gol. Manajer
- 3. = Gol. Pekerja

Setiap strata pada gambar tersebut memiliki ruang lingkup tugas dan wewenang berbeda. Hal itu menunjukkan fungsi stratifikasi untuk menentukan ....

- A. solidaritas antarstrata
  - B. distribusi hak istimewa
  - C. prestise kelompok pekerja
  - D. pencapaian tujuan pribadi
  - E. pemenuhan kebutuhan individu
17. Kehidupan masyarakat modern semakin meninggalkan adat tradisi warisan generasi pendahulu. Hampir setiap sektor kehidupan masyarakat mengikuti tata aturan baru yang dirumuskan secara tertulis. Sanksi yang digunakan untuk pengendalian sosial juga dibuat secara tertulis. Berdasarkan deskripsi tersebut, dapat diidentifikasi bahwa jenis norma yang berlaku adalah ....
- A. adat istiadat
  - B. tata kelakuan
  - C. kebiasaan
  - D. hukum
  - E. cara
18. Konflik yang diikuti dengan tindak kekerasan sering terjadi ketika polisi Pamong Praja menangani masalah pengusuran pedagang kaki lima yang berjualan di atas trotoar jalan. Terjadinya konflik tersebut disebabkan oleh faktor ....
- A. perubahan sosial yang cepat
  - B. tuntutan kebutuhan ekonomi
  - C. kebijakan politik dan ideologi
  - D. perbedaan kepentingan dan tujuan
  - E. sub kebudayaan yang menyimpang
19. Mahkamah Konstitusi (MK) mengambil keputusan tentang sah atau tidaknya suatu pasal dalam undang-undang yang menjadi sengketa di antara lembaga-lembaga negara. Bentuk akomodasi pada kasus tersebut adalah ....
- A. kompromi
  - B. toleransi
  - C. mediasi
  - D. arbitrase
  - E. koersi

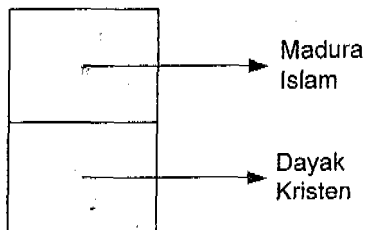
20. Bentuk-bentuk konflik sosial:

- (1) Konflik antara pendukung tim sepak bola
- (2) Demonstrasi buruh menuntut kenaikan upah
- (3) Aksi warga menolak penggusuran lahan untuk proyek pemerintah
- (4) *Sweeping* oleh organisasi massa ke tempat diskotik di kota besar

Dari contoh tersebut yang termasuk konflik vertikal adalah ....

- A. (1) dan (2)
- B. (1) dan (3)
- C. (2) dan (3)
- D. (2) dan (4)
- E. (3) dan (4)

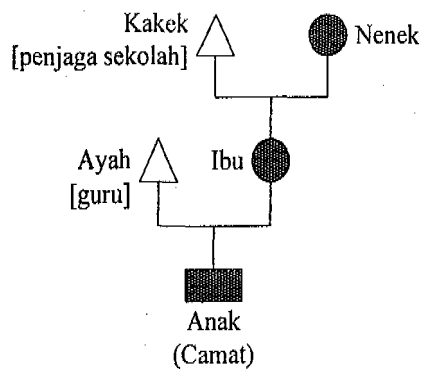
21. Skema kemajemukan sosial



Gambar di atas menunjukkan adanya struktur sosial ....

- A. interseksi sosial
- B. asimilasi sosial
- C. konsolidasi sosial
- D. integrasi sosial
- E. disintegrasi sosial

22. Bagan mobilitas sosial



Bagan di atas menunjukkan bentuk mobilitas sosial dalam keluarga, yaitu ....

- A. intragenerasi naik
- B. intragenerasi turun
- C. antargenerasi naik
- D. antargenerasi turun
- E. mobilitas campuran

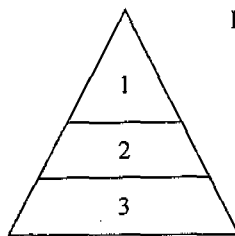
23. Beberapa saluran mobilitas sosial:

- (1) Kepala SMA A pindah tugas ke sekolah SMA B di daerah yang sama
- (2) Setelah dua periode menjadi anggota DPR kini menjadi rakyat biasa.
- (3) Merasa di kota sudah sangat padat seseorang pindah tempat tinggal ke desa.
- (4) Seorang siswa SMA setelah lulus berhasil masuk perguruan tinggi yang berkualitas.

Di antara contoh di atas yang tergolong mobilitas vertikal adalah ....

- A. (1) dan (2)
- B. (1) dan (3)
- C. (2) dan (3)
- D. (2) dan (4)
- E. (3) dan (4)

24. Gambar stratifikasi sosial



Keterangan:

1. = Gol. Eropa
2. = Gol. Asia Timur
3. = Gol. Pribumi

Gambar di atas menunjukkan stratifikasi sosial masyarakat Indonesia pada masa kolonial yang bersifat ....

- A. statis
  - B. dinamis
  - C. tertutup
  - D. terbuka
  - E. campuran
25. Struktur majemuk masyarakat Indonesia berpengaruh terhadap pola hubungan antarkelompok sosial. Untuk menjaga solidaritas internal maka masing-masing pihak melakukan upaya penguatan ke dalam kelompoknya. Berkaitan dengan upaya integrasi masyarakat, maka dapat disimpulkan bahwa ....
- A. struktur interseksi mendorong terjadinya konflik
  - B. konsolidasi group menghambat integrasi sosial masyarakat
  - C. struktur sosial masyarakat majemuk didominasi kelompok etnis
  - D. interseksi bisa menghambat integrasi sosial dalam masyarakat
  - E. konsolidasi dan interseksi menghambat integrasi secara menyeluruh
26. Jakarta sebagai kota metropolitan didatangi oleh berbagai kelompok suku bangsa yang memiliki karakter beragam. Keragaman karakter dan perilaku di antara mereka menggambarkan ciri kemajemukan dalam aspek ....
- A. kepentingan bangsa
  - B. tujuan masyarakat
  - C. kemauan bersama
  - D. kebiasaan masyarakat
  - E. kegiatan kebudayaan

27. Gejala hubungan sosial dalam masyarakat:
- (1) Hubungan antaranggota bersifat formal
  - (2) Memiliki orientasi ekonomi dan tidak kekal
  - (3) Terdapat ikatan batin yang kuat antaranggota
  - (4) Hubungan antaranggota bersifat informal

Dari gejala sosial tersebut yang merupakan ciri kelompok sosial patembayan adalah ....

- A. (1) dan (2)
  - B. (1) dan (3)
  - C. (2) dan (3)
  - D. (2) dan (4)
  - E. (3) dan (4)
28. Masyarakat multikultural berdasarkan suku bangsa di Indonesia ditandai dengan adanya tingkat solidaritas yang tinggi antarindividu dalam kelompok genealogis. Hal itu disebabkan adanya keyakinan tentang kesamaan ....
- A. bahasa dan budaya
  - B. ciri-ciri fisik
  - C. asal usul daerah
  - D. nenek moyang
  - E. mata pencarian
29. Di masyarakat Indonesia dijumpai berbagai ras campuran. Beberapa bintang sinetron berasal dari ras campuran tersebut. Sarana komunikasi dan transportasi yang mempermudah hubungan bangsa menambah populasi penduduk dari ras campuran. Realitas sosial tersebut terjadi melalui proses ....
- A. amalgamasi
  - B. asimilasi
  - C. akulturasi
  - D. adaptasi
  - E. difusi
30. Masyarakat yang tinggal di kota besar berasal dari berbagai suku bangsa, agama, dan ras yang berbeda-beda, sehingga mereka sering menggunakan sentimen primordial untuk menghadapi kelompok lain. Fungsi sentimen primordial tersebut adalah ....
- A. memperkuat solidaritas antaranggota kelompok sendiri
  - B. mewujudkan kebersamaan dengan kelompok sosial lain
  - C. membentuk identitas yang berbeda dengan karakter awal
  - D. menimbulkan keretakan soliditas sosial dalam kelompok
  - E. mengurangi hambatan sosial untuk kesatuan nasional

31. Masyarakat Indonesia yang majemuk antara lain ditandai dengan beraneka ragam suku bangsa dan agama yang dianut. Masing-masing memiliki kebudayaan dan ritual berbeda dan kurang komunikasi sehingga rawan konflik. Komposisi tersebut menunjukkan konfigurasi masyarakat majemuk yaitu ....
- mayoritas dominan
  - minoritas dominan
  - fragmentasi sosial
  - kompetisi seimbang
  - mayoritas seimbang
32. Beberapa gejala sosial:
- Andi selalu berbicara dalam bahasa Bugis ketika membahas urusan lingkungan dengan sesama suku bangsanya.
  - I Gede Pastika suka menyanyikan lagu-lagu dari daerah Bali di lingkungan keluarganya.
  - Politisi PKB mengklaim bahwa warga Nahdyyin ada ikatan emosi dengan PKB (Partai Kebangkitan Bangsa).
  - Ahmad menentukan pilihan politik dengan mencontreng PAN (Partai Amanat Nasional) karena ia merasa orang Muhammadiyah.
- Dari contoh tersebut di atas yang merupakan perilaku politik aliran adalah ....
- (1) dan (2)
  - (1) dan (3)
  - (2) dan (3)
  - (2) dan (4)
  - (3) dan (4)
33. Masyarakat majemuk mengalami proses segmentasi atau pembagian kelompok, dengan struktur sosial yang terbagi-bagi, dan secara relatif sering terjadi konflik antara kelompok yang satu dengan kelompok yang lain. Ciri-ciri tersebut dapat berpengaruh terhadap munculnya ....
- komunikasi yang saling menguntungkan
  - kontak sosial yang saling mentoleransi
  - hubungan sosial yang saling mencurigai
  - interaksi sosial yang saling membantu
  - akomodasi yang cepat dan permanen

34. Beberapa fenomena sosial:

- (1) Pembangunan listrik masuk desa mendorong industri kecil
- (2) PHK menyebabkan pengangguran meningkat dengan pesat
- (3) Pembangunan sarana jalan raya di daerah terpencil sesuai anggaran
- (4) Penggunaan mesin pertanian memicu berkembangnya sikap individualis

Dari contoh di atas yang termasuk perubahan *tidak dikehendaki* adalah ....

- A. (1) dan (2)
- B. (1) dan (3)
- C. (2) dan (3)
- D. (2) dan (4)
- E. (3) dan (4)

35. Krisis minyak bumi mendorong masyarakat Indonesia melakukan inovasi/penemuan baru. Masyarakat berhasil menemukan bahan bakar gas yang bahan bakunya dari sisa kotoran hewan untuk mengganti minyak tanah yang semakin mahal.

Contoh tersebut menunjukkan perubahan sosial yang disebabkan oleh faktor ....

- A. kemampuan internal
- B. pengaruh eksternal
- C. lingkungan sosial
- D. dinamika masyarakat
- E. budaya kelompok

36. Beberapa gejala sosial:

- (1) Berusaha meningkatkan kesejahteraan rakyat
- (2) Menjaga kemakmuran dan kesejahteraan masyarakat
- (3) Memiliki kitab undang-undang sebagai acuan
- (4) Timbangan sebagai lambang keadilan masyarakat

Dari daftar tersebut, yang termasuk ciri lembaga hukum adalah ....

- A. (1) dan (2)
- B. (1) dan (3)
- C. (2) dan (3)
- D. (2) dan (4)
- E. (3) dan (4)

37. Beberapa fenomena dalam masyarakat:
- (1) Sikap masyarakat yang tradisional
  - (2) Prasangka terhadap hal-hal yang baru
  - (3) Peperangan yang terjadi antarnegara
  - (4) Perubahan lingkungan fisik/geografis

Dari contoh di atas yang dapat menghambat perubahan sosial adalah ....

- A. (1) dan (2)
  - B. (1) dan (3)
  - C. (2) dan (3)
  - D. (2) dan (4)
  - E. (3) dan (4)
38. Ketika Aceh dilanda bencana alam tsunami, dengan cepat beritanya menyebar ke seluruh dunia. Tidak lama berselang empati dari berbagai negara pun disampaikan kepada bangsa Indonesia. Ditinjau dari perkembangan teknologi informasi, maka ilustrasi tersebut menggambarkan dampak positif dari ....
- A. demokratisasi
  - B. modernisasi
  - C. westernisasi
  - D. globalisasi
  - E. sekularisasi
39. Di kota-kota besar terdapat pola hubungan sosial yang lebih cenderung mementingkan kesenangan lahiriah/dunia sehingga sering terdengar slogan "yang penting senang". Pola hidup yang demikian merupakan wujud dari ....
- A. westernisasi
  - B. sekularisme
  - C. hedonisme
  - D. liberalisme
  - E. ekstremisme
40. Beberapa gejala sosial:
- (1) Ibu mengajari anak cara berbicara dengan orang yang lebih tua.
  - (2) Bapak memberi contoh bagaimana bersikap baik kepada orang lain.
  - (3) Ibu membelai anaknya dengan penuh kasih sayang dan ikhlas.
  - (4) Orang tua membantu ketika anak menghadapi masalah.

Dari contoh tersebut di atas yang termasuk fungsi sosialisasi dalam keluarga adalah ....

- A. (1) dan (2)
- B. (1) dan (3)
- C. (2) dan (3)
- D. (2) dan (4)
- E. (3) dan (4)

41. Lembaga pendidikan agama sangat penting untuk membangun kepribadian individu yang berakhlak mulia. Fungsi lembaga tersebut bagi kelangsungan hidup masyarakat adalah ....
- mendorong individu untuk bekerja
  - memberikan dasar moral bagi individu
  - mengajarkan batas-batas perilaku masyarakat
  - merupakan pedoman bermasyarakat
  - mengatur kehidupan bersama
42. Agar peneliti bersemangat untuk menyelesaikan kegiatan penelitiannya sesuai jadwal, maka topik penelitian harus memenuhi syarat tertentu, yaitu ....
- menarik minat peneliti
  - menjadi perhatian masyarakat
  - penting untuk diselidiki
  - tersedia data yang sesuai
  - penelitian faktual dan objektif
43. Untuk mengetahui seluk beluk kehidupan masyarakat nelayan, seorang peneliti tinggal bersama nelayan dalam kurun waktu yang lama. Cara mengumpulkan data seperti yang dilakukan oleh peneliti tersebut adalah ....
- interview mendalam
  - observasi sistematis
  - observasi partisipatif
  - kuesioner terstruktur
  - survey lapangan
44. Petugas sensus memperoleh data dengan cara datang dari rumah ke rumah penduduk untuk menanyakan jumlah anggota keluarga, tingkat pendidikan, keadaan ekonomi, dan lain-lain. Berdasarkan cara memperolehnya data tersebut merupakan jenis data ....
- primer
  - sekunder
  - kualitatif
  - kuantitatif
  - campuran
45. Seringkali data yang diperoleh dari lapangan atau sumber data masih mentah dan belum sistematis. Oleh sebab itu, peneliti harus mengolah data tersebut sehingga sistematis dan ringkas dengan cara ....
- membuat tabel data
  - membedakan jenis data
  - menghitung jumlah data
  - membandingkan porsi data
  - menentukan sumber data

46. Peneliti berusaha menjelaskan gejala sosial dalam masyarakat secara kualitatif, dan dalam mengolah data tidak menggunakan statistik. Model penelitian tersebut adalah ....
- komparatif
  - eksperimen
  - korelatif
  - deskriptif
  - eksplanatif

47. Tabel kiat tentang mencari pekerjaan dengan mudah

No.	Cara yang ditempuh	Jumlah	Persentase
1.	Seleksi kemampuan	138	13,8%
2.	Mencari kenalan/ kerabat	339	33,9 %
3.	Menyogok ( menyuap )	433	43,3 %
4.	Tidak tahu	90	9,0 %

Data pada tabel tersebut dapat diinterpretasikan bahwa ....

- banyak pengangguran yang membutuhkan pekerjaan tetap
  - masyarakat cenderung mencapai tujuan dengan tidak jujur
  - perusahaan lebih memercayai kemampuan pelamar pekerjaan
  - sebagian besar pelamar kerja menggunakan persaingan sehat
  - kemampuan pelamar kerja tidak diperlukan dalam persaingan
48. Peneliti menyusun laporan hasil kegiatan penelitian agar dapat dibaca oleh masyarakat ilmiah. Hal itu sesuai fungsi akademik dari laporan hasil penelitian yaitu ....
- mengadakan kegiatan kemanusiaan
  - melaksanakan praktik penelitian modern
  - mewujudkan kemakmuran kelompok sosial
  - mengembangkan ilmu pengetahuan dan teknologi
  - mewujudkan keadilan sosial bagi masyarakat
49. Beberapa ciri metode pengumpulan data:
- (1) Mudah diisi sesuai keadaan responden
  - (2) Memerlukan banyak waktu untuk mengisi dengan benar
  - (3) Kemungkinan angket dikembalikan oleh responden cukup besar
  - (4) Pengolahan data sukar dilaksanakan oleh peneliti sosial

Dari daftar di atas yang termasuk kelebihan teknik pengumpulan data dengan angket adalah ....

- (1) dan (2)
- (1) dan (3)
- (2) dan (3)
- (2) dan (4)
- (3) dan (4)

50. Pemerintah kota Surabaya melakukan penelitian tentang tingkat pendidikan masyarakat. Pengambilan sampel dilakukan dengan mempertimbangkan penduduk yang tersebar dalam beberapa kecamatan. Teknik pengambilan sampel tersebut adalah ....
- A. *area sampling*
  - B. *purposive sampling*
  - C. *incidental sampling*
  - D. *cluster sampling*
  - E. *stratified sampling*