

DOKUMEN NEGARA

SANGAT RAHASIA

B

UJIAN NASIONAL

TAHUN PELAJARAN 2009/2010


**EKONOMI
(D16)**

SMA/MA

**PROGRAM STUDI
I P S**

P 47

UTAMA



**PUSPENDIK
BALITBANG**

BSNP
Badan Standar Nasional Pendidikan

KEMENTERIAN PENDIDIKAN NASIONAL

MATA PELAJARAN

Mata Pelajaran : EKONOMI
Jenjang : SMA/MA
Program Studi : I P S

WAKTU PELAKSANAAN

Hari/Tanggal : Jum'at, 26 Maret 2010
Jam : 08.00 - 10.00

PETUNJUK UMUM

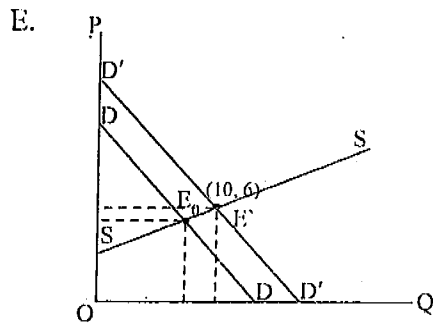
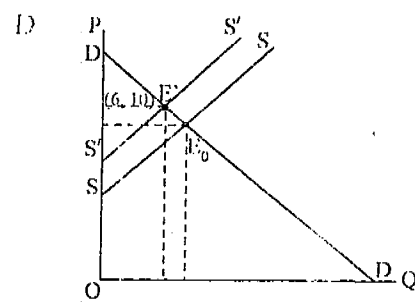
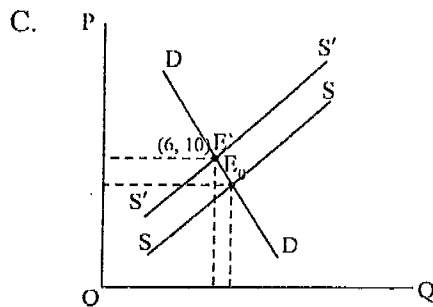
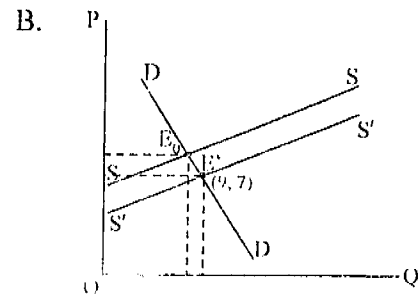
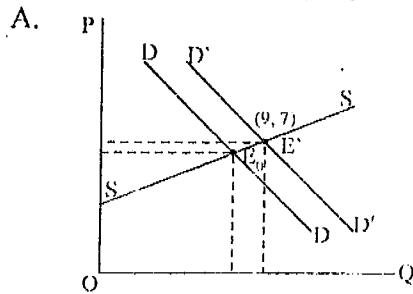
1. Isikan identitas Anda ke dalam Lembar Jawaban Ujian Nasional (LJUN) yang tersedia dengan menggunakan pensil 2B sesuai petunjuk di LJUN.
2. Hitamkan bulatan di depan nama mata ujian pada LJUN.
3. Tersedia waktu 120 menit untuk mengerjakan paket tes tersebut.
4. Jumlah soal sebanyak 40 butir, pada setiap butir soal terdapat 5 (lima) pilihan jawaban.
5. Periksa dan bacalah soal-soal sebelum Anda menjawabnya.
6. Laporkan kepada pengawas ujian apabila terdapat lembar soal yang kurang jelas, rusak, atau tidak lengkap.
7. Mintalah kertas buram kepada pengawas ujian, bila diperlukan.
8. Tidak diizinkan menggunakan kalkulator, HP, tabel matematika atau alat bantu hitung lainnya.
9. Periksalah pekerjaan Anda sebelum diserahkan kepada pengawas ujian.
10. Lembar soal tidak boleh dicoret-coret.

1. Perbedaan pasar monopoli dengan pasar monopsoni berdasarkan pada distribusi adalah pada pasar monopoli terdapat
 - A. satu pembeli banyak penjual, pada pasar monopsoni satu penjual banyak pembeli
 - B. satu penjual banyak pembeli, pada pasar monopsoni satu pembeli banyak penjual
 - C. satu pembeli satu penjual, pada pasar monopsoni satu pembeli banyak penjual
 - D. satu pembeli banyak penjual, pada pasar monopsoni banyak pembeli dan penjual
 - E. banyak pembeli satu penjual, pada pasar monopsoni banyak pembeli dan penjual

2. Pembangunan yang tidak merata (yang terkonsentrasi di perkotaan) menimbulkan terjadinya urbanisasi/perpindahan penduduk dari desa terutama pada pencari kerja. Akibatnya penawaran tenaga kerja di kota bertambah dan sebaliknya di desa berkurang. Dengan asumsi permintaan tenaga kerja di desa tetap dan penawaran tenaga kerja berkurang atau secara grafis dapat dikatakan bahwa kurva permintaan tetap dan kurva penawaran tenaga kerja bergeser ke kiri, maka harga faktor produksi....
 - A. sumber daya alam naik
 - B. modal naik
 - C. tenaga kerja naik
 - D. tanah turun
 - E. SDA dan SDM turun ✓

3. Bila harga suatu barang naik dari Rp13.000,00/unit menjadi Rp14.000,00/unit yang menyebabkan jumlah barang yang diminta turun dari 20 unit menjadi 10 unit, maka jenis elastisitas permintaannya adalah
 - A. elastis
 - B. inelastis
 - C. elastis uniter
 - D. elastis sempurna
 - E. inelastis sempurna

4. Diketahui fungsi permintaan $P_d = 16 - Q$ dan fungsi penawaran $P_s = 2Q - 5$ serta pajak $t = 3$. Maka kurva keseimbangan pasar setelah pajak adalah



5. Pada saat ini dengan persaingan kerja yang begitu ketat, banyak pekerja mencoba mencari alternatif lain dalam berkendara untuk menghindari macet yang sering terjadi. Untuk itu pemerintah berusaha mewujudkan suatu alat transportasi yang aman, terjangkau, dan nyaman seperti Bus Trans Jakarta (*Bus Way*) di Jakarta. Hal ini peluang bagi produsen untuk memecahkan masalah yang tepat
- barang apa yang dapat diproduksi
 - bagaimana cara memproduksi
 - untuk siapa barang diproduksi
 - dimana pengguna memanfaatkan
 - kapan barang akan produksi

6. Masyarakat dan pedagang makanan khususnya kelas bawah sulit mencari bahan bakar minyak tanah, hal ini disebabkan
- kebijakan pemerintah mengonversi minyak tanah ke bahan bakar gas
 - makin menipisnya cadangan minyak bumi dalam negeri
 - sebagian besar minyak tanah untuk diekspor ke luar negeri
 - sulit mencari bahan bakar lain dan mahalanya impor minyak tanah
 - sulit memproduksi bahan bakar minyak tanah di dalam negeri

7. Dampak sistem ekonomi pasar pada negara yang masyarakatnya majemuk sebagai berikut :
- Kebebasan memilih alat produksi dan modal
 - Keuntungan tergantung pada kemampuan mengelola usahanya
 - Terjadi persaingan yang tidak sehat
 - Cenderung untuk berinovasi
 - Timbul distribusi yang tidak merata

Dampak positif dari sistem ekonomi pasar adalah

- 1, 2, dan 3
 - 1, 2, dan 4
 - 1, 4, dan 5
 - 2, 3, dan 4
 - 3, 4, dan 5
8. Pengusaha restoran memerlukan bahan makanan dan bahan bakar sebagai kebutuhan pokok. Jika minyak tanah mahal dan gas pun langka, maka peran perusahaan sebagai produsen adalah
- menutup usahanya selama harga minyak tanah dan gas mahal
 - tetap menggunakan minyak tanah, walaupun harganya mahal
 - menggunakan kompor listrik yang membutuhkan banyak daya
 - menutup usahanya selama tidak ada bahan bakar gas dan minyak tanah
 - mempertimbangkan penghematan dan penggunaan batu bara atau arang

9. Karakteristik uang kartal dan uang giral sebagai berikut:
- Dijamin oleh bank umum pencbit
 - Beredar di kalangan terbatas
 - Diterima oleh masyarakat
 - Dijamin oleh pemerintah
 - Beredar di seluruh lapisan masyarakat
 - Berupa cek, bilyet giro, dan telegrafis transfer

Alasan uang kartal lebih diterima masyarakat umum adalah

- 1, 2, dan 3
- 1, 2, dan 4
- 2, 3, dan 4
- 3, 4, dan 5
- 4, 5, dan 6

10. Untuk kelancaran dunia bisnis, seorang pengusaha berusaha melakukan transaksi dengan menggunakan produk-produk perbankan. Agar dapat berpartisipasi dalam meningkatkan pertumbuhan ekonomi, seorang pengusaha dapat memanfaatkan kredit investasi.

Yang dimaksud kredit investasi adalah kredit yang digunakan untuk

- A. keperluan perluasan usaha
 - B. ditabung kembali di bank
 - C. untuk membeli bahan baku
 - D. dipinjamkan perusahaan lain
 - E. membiayai kegiatan rutin perusahaan
11. Tahun 1997 Indonesia mengalami krisis ekonomi yang sangat hebat, di mana harga barang-barang kebutuhan pokok meningkat, investor cenderung berkurang tajam karena membengkaknya biaya-biaya. Pada saat itu pemerintah berusaha menekan krisis tersebut dengan kebijakan-kebijakan moneter, yaitu
- A. mengendalikan impor barang
 - B. menaikkan tingkat suku bunga
 - C. mengenai ketetapan tarif pajak
 - D. mengatur pendapatan dan belanja negara
 - E. kebijaksanaan anggaran jangka pendek

12. Negara "M" memiliki data pendapatan nasional sebagai berikut:

<i>Net national income</i>	Rp100 milyar
<i>Transfer payment</i>	Rp5 milyar
Pajak tidak langsung	Rp5 milyar
Asuransi	Rp2 milyar
Laba ditahan	Rp2 milyar
Iuran jaminan sosial	Rp1 milyar
Pajak perseroan	Rp1 milyar

Besarnya *personal income (PI)* pada negara "M" adalah

- A. Rp116 milyar
- B. Rp111 milyar
- C. Rp104 milyar
- D. Rp99 milyar
- E. Rp89 milyar

13. Tabel indeks harga konsumen (IHK):

Tahun	Indeks Harga Konsumen
2006	105%
2007	109%
2008	114%
2009	120%

Berdasarkan tabel di atas, tingkat inflasi tahun 2008 dengan pembulatan ke atas adalah

- A. 3,84%
- B. 4,34%
- C. 4,59%
- D. 5,00%
- E. 5,25%

14. Jika fungsi konsumsi $C = 95.000 + 0,75Y$ dalam rupiah, sedangkan C merupakan besarnya konsumsi, Y besarnya pendapatan, maka besarnya konsumsi apabila tabungan sebesar Rp100.000,00 adalah
- Rp780.000,00
 - Rp680.000,00
 - Rp195.000,00
 - Rp100.000,00
 - Rp95.000,00
15. Berikut ini sebagian APBD salah satu provinsi di Indonesia (dalam triliun rupiah):

A.	Pendapatan :	
	- PAD	Rp7.585
	- Dana perimbangan	Rp5.770
	- Lain-lain pendapatan daerah yang sah	Rp109
B.	Belanja	
	1. Aparatur	
	- Belanja administrasi umum	Rp2.414
	- Belanja operasi dan pemeliharaan	Rp1.286
	- Modal	Rp648
	2. Publik	
	- Belanja administrasi umum	Rp2.218
	- Belanja operasi dan pemeliharaan	Rp2.692
	- Modal	Rp2.757

- Berdasarkan data di atas dampak terhadap kegiatan ekonomi adalah
- APBD tersebut defisit sehingga peningkatan kualitas pelayanan pemerintah berkurang
 - APBD tersebut surplus sehingga peningkatan kualitas pelayanan pemerintah bertambah
 - APBD tersebut surplus sehingga peningkatan kualitas pelayanan pemerintah berkurang
 - pemerintah daerah tersebut mengalami kesulitan untuk mengatur dana karena APBD defisit
 - terjadi keseimbangan APBD, sehingga pelayanan pemerintah daerah tersebut stabil
16. Pak Zul seorang PNS mempunyai rumah tinggal di kawasan Cibubur dengan luas tanah 450 m^2 dengan harga Rp200.000,00/m², sedangkan luas bangunan 200 m^2 dengan harga Rp400.000,00/m². Jika nilai bangunan tidak kena pajak Rp8.000.000,00 pajak yang harus dibayar Pak Zul adalah
- Rp72.000,00
 - Rp95.000,00
 - Rp122.000,00
 - Rp162.000,00
 - Rp170.000,00

17. Keadaan dalam masyarakat terjadi harga yang selalu naik, banyak terjadi PHK, pengangguran bertambah, inflasi semakin tinggi. Untuk mengatasi masalah tersebut pemerintah mengadakan kebijakan antara lain:
1. Menaikan tarif pajak
 2. Diversifikasi pajak
 3. Menaikan suku bunga
 4. Politik pasar terbuka
 5. Mengadakan diskriminasi harga

Yang termasuk kebijakan fiskal adalah

- A. 1 dan 2
 - B. 2 dan 3
 - C. 3 dan 4
 - D. 3 dan 5
 - E. 4 dan 5
18. Perhatikan mekanisme transaksi produk bursa efek di bawah ini!
1. Dealer menghubungi petugas di bursa untuk menjual saham
 2. Pemilik modal ketika melakukan transaksi menghubungi broker
 3. Investor menanamkan modalnya di pasar modal
 4. Broker meneruskan perintah yang diinginkan pada dealer di perusahaan investasi
 5. Broker memberikan keuntungan kepada pemilik modal

Yang termasuk mekanisme pembelian di bursa efek adalah

- A. 1, 3, dan 5
 - B. 2, 4, dan 1
 - C. 3, 4, dan 5
 - D. 4, 1, dan 3
 - E. 4, 2, dan 5
19. Berikut barang-barang yang akan diekspor dan akan diimpor oleh negara Indonesia:
- Barang yang akan diekspor : rotan, kayu, dan rempah-rempah
- Barang yang diimpor : furniture, otomotif, dan obat-obatan

Dampak ekonomi dari ekspor Indonesia yang berupa rotan, kayu, dan rempah-rempah adalah

- A. harga bahan bangunan terutama kayu naik
 - B. harga bahan bangunan, rotan, dan kayu turun
 - C. harga furniture berbahan baku kayu murah
 - D. terjadi penggundulan hutan/pembalakan hutan
 - E. melakukan reboisasi secara besar-besaran
20. Dampak neraca pembayaran terhadap perekonomian suatu negara jika neraca pembayarannya defisit adalah
- A. negara terpaksa melepas cadangan devisanya untuk membayar ke luar negeri
 - B. negara berusaha menutupi dengan menambah utang luar negeri
 - C. bekerjasama dengan bank dunia untuk mendapat bantuan dana tanpa bunga
 - D. negara terpaksa mengubah struktur ekonominya ke arah perbaikan
 - E. negara menjalankan strategi investasi melalui utang luar negeri

21. Berbagai upaya yang ditempuh pemerintah dalam menangani masalah pembangunan sebagai berikut:

1. Pemerataan pembangunan
2. Pengendalian pertumbuhan penduduk
3. Program transmigrasi
4. Pemberdayaan koperasi dan UKM
5. Percepatan pertumbuhan ekonomi daerah tertinggal

Upaya penanggulangan masalah kependudukan adalah

- A. 1 dan 2
- B. 1 dan 3
- C. 2 dan 4
- D. 3 dan 4
- E. 4 dan 5

22. Sudah tiga bulan Pak Karsa menganggur, hujan yang terus-menerus menyebabkan pekerjaan sebagai pedagang es campur keliling terpaksa berhenti.

Solusi yang tepat untuk mengatasi pengangguran seperti Pak Karsa adalah

- A. pemberian pinjaman lunak untuk modal
- B. meningkatkan daya beli masyarakat
- C. pelatihan/kursus keterampilan lain
- D. program transmigrasi atau urbanisasi
- E. mengikutkan dalam proyek padat karya

23. Salah satu kegiatan badan usaha yang dilakukan oleh pimpinan adalah menggerakkan karyawan agar bekerja sesuai dengan tujuan yang telah ditetapkan dan memberi motivasi kerja yang baik serta menciptakan suasana kerja yang nyaman dan menyenangkan. Hal yang dilakukan pimpinan tersebut merupakan fungsi manajemen

- A. *planning*
- B. *organizing*
- C. *actuating*
- D. *directing*
- E. *controlling*

24. Pada saat kita akan mendirikan usaha, pemilihan bentuk badan usaha perlu mempertimbangkan kebaikan dan kelemahan sebagai berikut:

1. Mudah untuk mendapatkan pinjaman modal dari pihak bank
2. Mudah dalam pengambilan keputusan
3. Laba jatuh ke tangan satu orang
4. Tanggung jawab pemilik terbatas
5. Manajemennya sangat profesional

Yang merupakan kebaikan dari badan usaha yang berbentuk Perseroan Terbatas (PT) adalah

- A. 1, 2, dan 4
- B. 1, 4, dan 5
- C. 2, 3, dan 4
- D. 2, 4, dan 5
- E. 3, 4, dan 5

25. Kios buku Bang Dul terletak di persimpangan jalan dekat dengan dua Sekolah Dasar dan satu SMP. Pada saat pulang sekolah, banyak siswa yang mampir ke kiosnya untuk beli buku atau hanya sekedar lihat-lihat. Di antara para siswa banyak yang janjian melalui telepon genggam untuk bertemu di kios tersebut.

Melihat kenyataan tersebut, peluang usaha yang dapat dikembangkan Bang Dul adalah

- A. menambah jumlah buku yang akan dijual
 - B. menyediakan bangku lebih banyak untuk para siswa
 - C. menjual voucher isi ulang *handphone* ✓
 - D. menyediakan warung telekomunikasi
 - E. menjual makanan dan minuman ringan
26. Salah satu SMA di suatu daerah memiliki koperasi sekolah yang cukup berkembang, bahkan mampu membantu siswa yang tidak mampu. Pada suatu saat karena orangtuanya pindah ke daerah lain, maka ada 5 siswa yang pindah sekolah ke daerah lain.

Kewajiban pengurus koperasi sekolah terhadap 5 siswa yang pindah adalah

- A. mengembalikan simpanan wajib
 - B. mengembalikan simpanan pokok
 - C. memberikan sisa hasil usaha (SHU) koperasi
 - D. menagih siswa tersebut bila memiliki pinjaman
 - E. memperhitungkan hak dan kewajiban 5 anggota yang keluar ✓
27. Pemerintah selalu mendorong aktivitas BUMN, BUMS, maupun Koperasi karena badan usaha tersebut sangat berperan dalam perekonomian Indonesia. Peran badan usaha tersebut di antaranya adalah
- A. membantu pemerintah dalam meningkatkan pendapatan masyarakat dan mengurangi pengangguran ✓
 - B. wujud pemerintah dalam mengupayakan sarana yang ada dalam pembangunan
 - C. sebagai tindak lanjut langkah menuju ke arah globalisasi dunia, hingga dikenal masyarakat dunia
 - D. upaya langkah maju pemerintah dalam mengarahkan pembangunan masyarakat melalui suatu badan usaha ✓
 - E. membantu masyarakat untuk dapat berkarya sehingga siap untuk meningkatkan kreatifitas dan kompetisinya

28. Modal, Irsyad per 1/1/2009 Rp25.000.000,00
 Modal, Irsyad per 31/12/2009 Rp31.000.000,00
 Prive Irsyad Rp1.500.000,00
 Pendapatan jasa konsultasi Rp11.000.000,00
 Pendapatan administrasi Rp500.000,00
 Berdasarkan data tersebut, total biaya sebesar

- A. Rp3.000.000,00
- B. Rp3.500.000,00
- C. Rp4.000.000,00
- D. Rp4.500.000,00
- E. Rp5.000.000,00

29. Podomoro Servis membayar kepada BRI angsuran pinjaman Rp2.500.000,00 dan bunga Rp400.000,00. Transaksi tersebut dijurnal ...

A.	Kas	Rp2.900.000,00	
	Piutang		Rp2.900.000,00
B.	Piutang	Rp2.500.000,00	
	Beban Bunga	Rp400.000,00	
	Kas		Rp2.900.000,00
C.	Utang Bank	Rp2.500.000,00	
	Beban Bunga	Rp400.000,00	
	Kas		Rp2.900.000,00
D.	Utang Bank	Rp2.900.000,00	
	Kas		Rp2.900.000,00
E.	Utang Bank	Rp2.900.000,00	
	Beban bunga		Rp400.000,00
	Kas		Rp2.500.000,00

30.

Kertas Kerja (sebagian)
Perusahaan Jasa Abadi
Per 31 Desember 2008

No.	Nama Akun	Neraca sisa		Penyesuaian		Neraca saldo disesuaikan		Laba/Rugi		Neraca	
		D	K	D	K	D	K	D	K	D	K
1	Kendaraan	100.000	-	-	-	100.000	-	100.000	-	-	-
2	Akum. Peny. Kendaraan	-	20.000	-	10.000	-	30.000	-	-	-	30.000
3	Prive Rosid	2.000	-	-	-	2.000	-	2.000	-	-	-
4	Beban asuransi	6.000	-	-	2.000	4.000	-	4.000	-	-	-
5	B. Peny. Kendaraan	-	-	10.000	-	10.000	-	-	-	10.000	-
6	Asuransi dibayar dimuka	-	-	2.000	-	2.000	-	-	-	2.000	-

Penyelesaian kertas kerja sebagian yang benar adalah

- A. 1, 2, dan 3
- B. 2, 3, dan 4
- C. 2, 4, dan 5
- D. 2, 4, dan 6
- E. 3, 5, dan 6

31. Diketahui modal salon "ANITA" awal Maret sebesar Rp10.000.000,00 dalam bentuk tunai. Data transaksi selanjutnya:

5 Maret 2009 Dibeli perlengkapan salon sebesar Rp750.000,00 secara tunai

10 Maret 2009 Dibeli alat steam rambut sebanyak 2 buah seharga @Rp900.000,00 dari Toko "EVA" baru dibayar Rp800.000,00 sisanya dibayar kemudian

20 Maret 2009 Dibayar pelunasan dari transaksi 10 Maret 2009 pada Toko "EVA"

Dari transaksi tersebut pencatatan dalam persamaan akuntansi yang benar adalah

A.

Tanggal	Kas	Perlengkapan	Peralatan	Utang Usaha	Modal
Maret 2009	10.000.000	-	-	-	10.000.000
05/03/2009	(750.000)	750.000	-	-	-
	9.250.000	750.000	-	-	10.000.000
10/03/2009	(800.000)	-	900.000	100.000	-
	8.450.000	750.000	900.000	100.000	10.000.000
20/03/2009	(100.000)	-	-	(100.000)	-
	8.350.000	750.000	900.000	-	10.000.000

B.

Tanggal	Kas	Perlengkapan	Peralatan	Utang Usaha	Modal
Maret 2009	10.000.000	-	-	-	10.000.000
05/03/2009	-	750.000	-	-	750.000
	10.000.000	750.000	-	-	10.750.000
10/03/2009	(800.000)	-	1.800.000	1.000.000	-
	9.200.000	750.000	1.800.000	1.000.000	10.750.000
20/03/2009	(1.000.000)	-	-	(1.000.000)	-
	8.200.000	750.000	1.800.000	-	10.750.000

C.

Tanggal	Kas	Perlengkapan	Peralatan	Utang Usaha	Modal
Maret 2009	10.000.000	-	-	-	10.000.000
05/03/2009	(750.000)	750.000	-	-	-
	9.250.000	750.000	-	-	10.000.000
10/03/2009	(800.000)	-	1.800.000	1.800.000	(800.000)
	8.450.000	750.000	1.800.000	1.800.000	9.200.000
20/03/2009	(1.000.000)	-	-	(1.000.000)	-
	7.450.000	750.000	1.800.000	800.000	9.200.000

D.

Tanggal	Kas	Perlengkapan	Peralatan	Utang Usaha	Modal
Maret 2009	10.000.000	-	-	-	10.000.000
05/03/2009	(750.000)	750.000	-	-	-
	9.250.000	750.000	-	-	10.000.000
10/03/2009	(800.000)	-	1.800.000	1.000.000	-
	8.450.000	750.000	1.800.000	1.000.000	10.000.000
20/03/2009	(1.000.000)	-	-	(1.000.000)	-
	7.450.000	750.000	1.800.000	-	10.000.000

E.

Tanggal	Kas	Perlengkapan	Utang Usaha	Modal
Maret 2009	10.000.000	-	-	10.000.000
05/03/2009	(750.000)	750.000	-	-
	9.250.000	750.000	-	10.000.000
10/03/2009	(800.000)	1.800.000	1.000.000	-
	8.450.000	2.550.000	1.000.000	10.000.000
20/03/2009	(1.000.000)	-	(1.000.000)	-
	7.450.000	2.550.000	-	10.000.000

32. Aji membuka usaha antar jemput anak sekolah. Untuk itu ia memulai usahanya dengan menyerahkan mobil minibusnya senilai Rp60.000.000,00 sebagai modal dan meminjam uang di Bank Sentosa sebesar Rp10.000.000,00 untuk menambah dana usahanya. Pengaruh transaksi tersebut terhadap persamaan akuntansi adalah

- A. Kas (+) Rp70.000.000,00, Utang (+) Rp10.000.000,00 dan Modal (+) Rp60.000.000,00
- B. Kas (+) Rp60.000.000,00, Utang (+) Rp10.000.000,00 dan Modal (+) Rp60.000.000,00
- C. Kendaraan (+) Rp60.000.000,00, Utang (+) Rp10.000.000,00 dan Modal (+) Rp70.000.000,00
- D. Kas (+) Rp10.000.000,00, Peralatan (+) Rp60.000.000,00, Utang (+) Rp10.000.000,00 dan Modal (+) Rp70.000.000,00
- E. Kas (+) Rp10.000.000,00, Kendaraan (+) Rp60.000.000,00, Utang (+) Rp10.000.000,00 dan Modal (+) Rp60.000.000,00

33. Perhatikan data berikut ini!

Pembelian	Rp15.200.000,00
Penjualan	Rp20.800.000,00
Biaya angkut pembelian	Rp200.000,00
Retur dan potongan pembelian	Rp350.000,00
Persediaan barang dagang 1 Jan 2009	Rp1.800.000,00
Persediaan barang dagang 31 Des 2009	Rp900.000,00
Retur dan potongan penjualan	Rp300.000,00

Dari data tersebut harga pokok penjualannya adalah

- A. Rp17.750.000,00
- B. Rp16.650.000,00
- C. Rp15.950.000,00
- D. Rp5.500.000,00
- E. Rp4.550.000,00

34. Data keuangan PD Murni per 31 Desember 2008 sebagai berikut:

Penjualan	Rp68.000,00
Persediaan awal	Rp20.000,00
Persediaan akhir	Rp16.000,00
Retur penjualan	Rp8.000,00
Pembelian	Rp40.000,00
Beban angkut pembelian	Rp3.000,00
Retur Pembelian	Rp5.000,00
Beban usaha	Rp7.000,00

Berdasarkan data di atas, laba bersih sebelum pajak adalah

- A. Rp58.000,00
- B. Rp38.000,00
- C. Rp18.000,00
- D. Rp16.000,00
- E. Rp11.000,00

35. Sebagian data yang terdapat dalam kolom laba/rugi kertas kerja PD Rencana adalah sebagai berikut:

No	Nama Akun	Laba/Rugi	
		Debet	Kredit
401	Penjualan	—	Rp15.000.000,00
402	Retur penjualan	Rp800.000,00	—
403	Potongan penjualan	Rp200.000,00	—
501	Pembelian	Rp9.500.000,00	—
502	Beban angkut pembelian	Rp300.000,00	—
503	Retur pembelian	—	Rp500.000,00
504	Potongan pembelian	—	Rp200.000,00

Berdasarkan kertas kerja sebagian tersebut, maka jurnal penutup yang benar adalah

- A. Ikhtisar laba/rugi Rp15.000.000,00
 Penjualan Rp15.000.000,00
- B. Retur penjualan Rp800.000,00
 Potongan penjualan Rp200.000,00
 Ikhtisar laba/rugi Rp1.000.000,00
- C. Ikhtisar laba/rugi Rp9.800.000,00
 Pembelian Rp300.000,00
 Beban angkut pembelian Rp9.500.000,00
- D. Ikhtisar laba/rugi Rp500.000,00
 Retur pembelian Rp500.000,00
- E. Ikhtisar laba/rugi Rp9.800.000,00
 Pembelian Rp9.500.000,00
 Beban angkut pembelian Rp300.000,00

36. Diketahui sebagian neraca saldo UD Mandiri sebagai berikut:

No Akun	Nama Akun	Debit (Rp)	Kredit (Rp)
103	Persediaan barang dagang	5.000.000,00	
501	Pembelian	35.000.000,00	
502	Beban angkut pembelian	4.000.000,00	
503	Retur pembelian		1.500.000,00
504	Potongan pembelian		500.000,00

Pada tanggal 31 Desember 2009, UD Mandiri memiliki persediaan barang dagang sebesar Rp12.000.000,00. Jurnal Penyesuaian yang dibuat pada 31 Desember 2009 untuk akun persediaan barang dagang dengan pendekatan ikhtisar laba/rugi adalah

- | | | | |
|----|--------------------------|-----------------|-----------------|
| A. | Ikhtisar laba-rugi | Rp5.000.000,00 | |
| | Persediaan barang dagang | | Rp5.000.000,00 |
| B. | Ikhtisar laba-rugi | Rp12.000.000,00 | |
| | Persediaan barang dagang | | Rp12.000.000,00 |
| C. | Persediaan barang dagang | Rp5.000.000,00 | |
| | Ikhtisar laba-rugi | | Rp5.000.000,00 |
| D. | Persediaan barang dagang | Rp12.000.000,00 | |
| | Ikhtisar laba-rugi | | Rp12.000.000,00 |
| E. | Ikhtisar laba-rugi | Rp5.000.000,00 | |
| | Persediaan barang dagang | | Rp5.000.000,00 |
| | Persediaan barang dagang | Rp12.000.000,00 | |
| | Ikhtisar laba-rugi | | Rp12.000.000,00 |

37. Neraca saldo (sebagian)
UD SEJAHTERA

No.	Nama Akun	D	K
1.	Perlengkapan	Rp500.000,00	-
2.	Persediaan barang dagang	Rp2.300.000,00	-
3.	Retur penjualan	Rp200.000,00	-
4.	Pembelian	Rp1.500.000,00	-
5.	Biaya iklan	Rp200.000,00	-

Data penyesuaian akhir periode akuntansi :

1. Perlengkapan yang masih ada Rp200.000,00
2. Persediaan barang dagang Rp1.500.000,00
3. Iklan yang belum terbit Rp75.000,00

Pencatatan yang benar dalam kertas kerja adalah

(dalam rupiah)

No.	Nama akun	Neraca		AJP		NSD		Laba - Rugi		Neraca	
		D	K	D	K	D	K	D	K	D	K
A.	Perlengkapan	500.000	-	-	300.000	200.000	-	200.000	-	-	-
B.	Perscd. Barang dagang	2300.000	-	1500.000	2300.000	1500.000	-	-	-	1500.000	-
C.	Retur penjualan	200.000	-	-	-	200.000	-	-	-	200.000	-
D.	Pembelian	1500.000	-	-	-	1500.000	-	-	1500.000	-	-
E.	Biaya iklan	200.000	-	75.000	-	275.000	-	275.000	-	-	-

38. Tgl 2 Feb 2008 diterima dari Toko ABC pelunasan faktur No.5 sebesar Rp5.000,00 dengan potongan 2%.

Tgl. 5 Feb 2008 dijual barang dagang secara tunai Rp5.000,00.

Transaksi tersebut dibukukan dalam jurnal khusus dengan benar yaitu

A. Jurnal Khusus Penerimaan Kas

Tgl	Keterangan	R e f	Debit		Kredit				
			Kas	Pot. Penj	Piutang	Penjualan	Serba - Serbi		
							Akun	Ref	Jumlah
2/2	Brg. Dagang	-	5.000	-	5.000	-	-	-	-
5/2	Brg. Dagang	-	5.000	-	-	5.000	-	-	-

B. Jurnal Khusus Penerimaan Kas

Tgl	Keterangan	R e f	Debit		Kredit				
			Kas	Pot. Penj	Piutang	Penjualan	Serba - Serbi		
							Akun	Ref	Jumlah
2/2	Brg. Dagang	-	4.900	-	4.900	-	-	-	-
5/2	Brg. Dagang	-	5.000	-	-	5.000	-	-	-

C. Jurnal Khusus Penerimaan Kas

Tgl	Keterangan	R e f	Debit		Kredit				
			Kas	Pot. Penj	Piutang	Penjualan	Serba - Serbi		
							Akun	Ref	Jumlah
2/2	Brg. Dagang	-	4.900	-	4.900	-	-	-	-
5/2	Brg. Dagang	-	5.000	-	5.000	-	-	-	-

D. Jurnal Khusus Penerimaan Kas

Tgl	Keterangan	R e f	Debit		Kredit				
			Kas	Pot. Penj	Piutang	Penjualan	Serba - Serbi		
							Akun	Ref	Jumlah
2/2	Brg. Dagang	-	4.900	100	5.000	-	-	-	-
5/2	Brg. Dagang	-	5.000	-	5.000	-	-	-	-

E. Jurnal Khusus Penerimaan Kas

Tgl	Keterangan	R e f	Debit		Kredit				
			Kas	Pot. Penj	Piutang	Penjualan	Serba - Serbi		
							Akun	Ref	Jumlah
2/2	Brg. Dagang	-	4.900	100	5.000	-	-	-	-
5/2	Brg. Dagang	-	5.000	-	-	5.000	-	-	-

39. Perhatikan bukti transaksi berikut ini!

UD. AMANAH			
Jl. Pemuda 108 Semarang			
Yth. Toko Cemerlang Jl. Slamet Riyadi 14 Solo		NOTA KREDIT Tgl. 5 Desember 2009 atas faktur no. 121	
Kami telah mengkredit akun Saudara sebagai berikut:			
Kuantitas	Keterangan	Harga satuan	Jumlah
1 buah	TV Ukiko	Rp1.800.000,00	Rp1.800.000,00
			Rp1.800.000,00

Bukti transaksi tersebut dicatat oleh UD Amanah yaitu dalam

- A. jurnal umum dan buku besar pembantu piutang Toko Cemerlang (Debit)
- B. jurnal umum dan buku besar pembantu piutang Toko Cemerlang (Kredit)
- C. jurnal umum dan buku besar pembantu utang Toko Cemerlang (Debit)
- D. jurnal umum dan buku besar pembantu utang Toko Cemerlang (Kredit)
- E. jurnal penyesuaian dan buku besar pembantu utang Toko Cemerlang (Kredit)

40. Perhatikan bukti transaksi!

PD. NASIONAL			
Jl. Panglima Polim 52 Cirebon			
Yth. UD Amanah		Faktur No. 245	
Jl. Pemuda 108 Semarang		Tgl. 4 Desember 2009	
		atas faktur No. 121	
Kuantitas	Keterangan	Harga satuan	Jumlah
10 buah	TV Ukiko	Rp1.700.000,00	Rp17.000.000,00
8 buah	TV Ukiko	Rp600.000,00	Rp4.800.000,00
			Rp21.800.000,00

Bukti transaksi tersebut oleh PD Nasional dicatat dalam buku besar pembantu

A. Piutang (UD Amanah)

Tanggal	Keterangan	Debit	Kredit	Saldo
Des 4	Penjualan	Rp21.800.000,00	--	Rp21.800.000,00

B. Utang (UD Amanah)

Tanggal	Keterangan	Debit	Kredit	Saldo
Des 4	Pembelian	Rp21.800.000,00	--	Rp21.800.000,00

C. Utang (UD Amanah)

Tanggal	Keterangan	Debit	Kredit	Saldo
Des 4	Pembelian	--	Rp21.800.000,00	Rp21.800.000,00

D. Pembelian

Tanggal	Keterangan	Debit		Kredit
		Pembelian	Peralatan	Utang
Des 4	UD Amanah	--	Rp21.800.000,00	Rp21.800.000,00

E. Piutang (UD Amanah)

Tanggal	Keterangan	Debit	Kredit	Saldo
Des 4	Penjualan	--	Rp21.800.000,00	Rp21.800.000,00